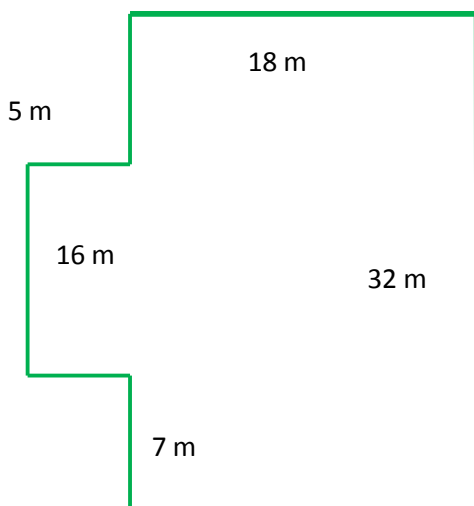


INVESTICE DO ROZVOJE VZDĚLÁVÁNÍ

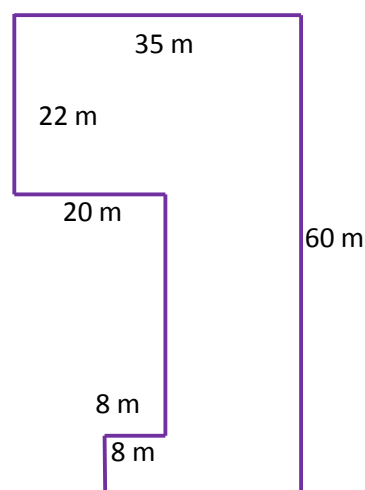
PLÁN PARCELY

Zadání

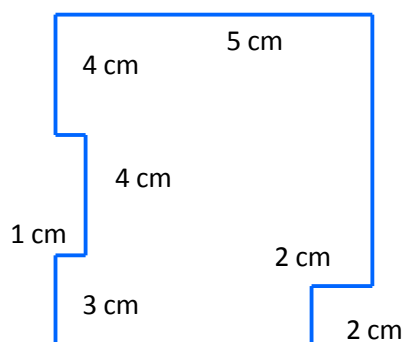
Stavební parcela má rozměry uvedené na obrázku 1. Na obrázku 2 jsou rozměry základů administrativní budovy. Na obrázku 3 je plánek zahrádky v zahrádkářské kolonii.



Obr. 1



Obr. 2



Obr. 3

Tvoje řešení

1. Jaká je výměra parcely (v arech)?

INVESTICE DO ROZVOJE VZDĚLÁVÁNÍ

2. Jaké budou rozměry parcely na plánu nakresleném v měřítku 1 : 750?

3. Jakou plochu zaujímá administrativní budova?

4. Jaké jsou rozměry půdorysu budovy na plánu města v měřítku 1 : 5 000?

5. Jakou délku má oplocení zahrádky, je-li plán nakreslen v měřítku 1 : 200?