



INVESTICE DO ROZVOJE VZDĚLÁVÁNÍ


Hodiny




Vytvoř trojúhelník s vrcholy v bodech 3, 6 a 12 a urči jeho vnitřní úhly.



Vytvoř trojúhelník s vrcholy v bodech 3, 9 a 11 a urči jeho vnitřní úhly.



Vytvoř trojúhelník s vrcholy v bodech 5, 7 a 12 a urči jeho vnitřní úhly.



Vytvoř trojúhelník s vrcholy v bodech 1, 4 a 9 a urči jeho vnitřní úhly.