

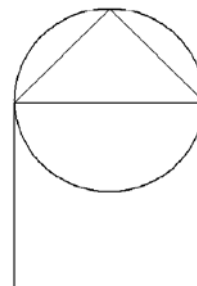
INVESTICE DO ROZVOJE VZDĚLÁVÁNÍ

MNOŽINY II

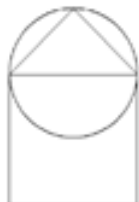
Máš tři množiny – geometrické obrazce: čtverec - C, kruh - K, trojúhelník - T
Rozmístění množin je znázorněno na obrázku.

Znázorni barevně:

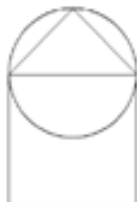
- | | |
|---------------|---------------|
| 1) $C \cup K$ | 6) $K \cap T$ |
| 2) $C \cup T$ | 7) $C - K$ |
| 3) $C \cap K$ | 8) $K - C$ |
| 4) $C \cap T$ | 9) $K - T$ |
| 5) $K \cup T$ | 10) $T - K$ |



1.



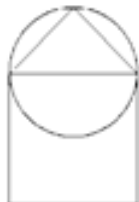
5.



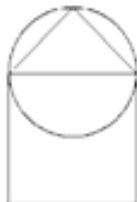
9.



2.



6.



10.



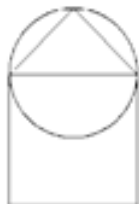
3.



7.



4.



8.

