

INVESTICE DO ROZVOJE VZDĚLÁVÁNÍ

KAPLIČKA

Zadání

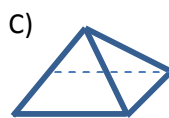
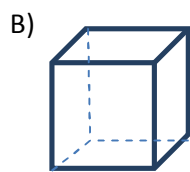
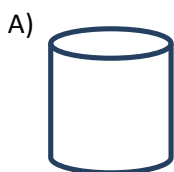
Pod Volákovým kopcem v Kameničkách je zrekonstruovaná kaplička (viz obr.).



1. Které geometrické útvary z následující nabídky na obrázku nevidíš?

Nabídka: čtverec, obdélník, rovnostranný trojúhelník, rovnoramenný trojúhelník, rovnoběžky, kolmice, mimoběžky, pravý úhel, kruhový oblouk, úsečka.

2. Pro místní archiv byla vytvořena dokumentace ve volném rovnoběžném promítání. Urči, která ze zobrazených těles jsou součástí kapličky.



3. Pojmenuj všechna tělesa, z nichž se kaplička skládá.

Tvoje řešení

Řešení úloh: