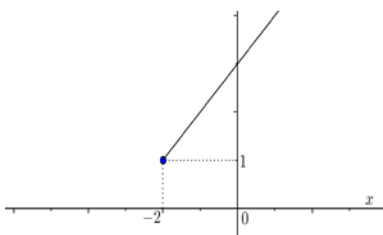


## INVESTICE DO ROZVOJE VZDĚLÁVÁNÍ

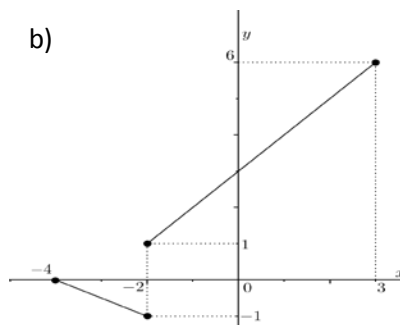
### POZNÁŠ FUNKCI?

Rozhodněte, které z množin bodů jsou grafy funkcí, své tvrzení zdůvodněte:

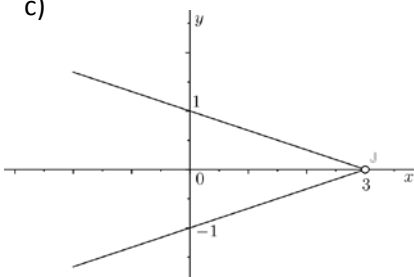
a)



b)



c)



d)

