



INVESTICE DO ROZVOJE VZDĚLÁVÁNÍ

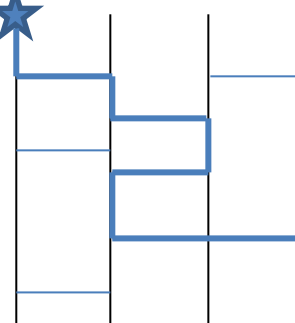
PAVUČINA - ZADÁNÍ

Sleduj následující „pavučinu“. Kam se dostane pavouček (vyznačen hvězdičkou), pokud jeho pohyb směřuje vždy dolů a jakmile narazí na příčnou vodorovnou spojnici, přeleze na její druhou stranu?

Například:



Řešení:



1

2

3

4

Vidíme, že se pavouček dostal do čísla 4.

Soutěž

Otevři si soubor Pavucina.pdf (viz příloha), kde je 13 pavučin seřazených podle obtížnosti.

Poznámka: Soubor po otevření natočíme vlevo (zobrazení »natočit zobrazení« doleva).

Obrazový materiál

Sodomková, T., Pavucina.pdf
Klipart poskytl Microsoft