

ROZPADLÉ ČTVERCE




Zadání

Základní čtverec rozděl



- a) na dva shodné rovinné útvary (proved' alespoň třemi způsoby)
- b) na čtyři shodné rovinné útvary (proved' dvěma způsoby)
- c) na šest shodných rovinných útvarů
- d) na sedm shodných rovinných útvarů
- e) na osm shodných rovinných útvarů
- f) na devět shodných rovinných útvarů.

Řešení:


a)




b)




c)



d)



e)



f)

